

EXAMEN TEORÍA

NOMBRE Y APELLIDOS: _____


INSTRUMENTO: _____

1.- Escribe las escalas de:

a) Do m dórica




b) Si m melódica




2.- Escribe las escalas de:

a) La M 2º tipo



b) Fa M 4º tipo



3.- Clasifica los siguientes intervallos:



4.- Clasifica e invierte los siguientes intervallos:




5.- Indica la tonalidad mayor y menor de las siguientes armaduras y escribe las armaduras correspondientes a las tonalidades que se te indican:




_____ y _____



_____ y _____



Sol # m



Lab M

6.- Completa el siguiente cuadro:

Compás	Unidad de parte	Unidad de compás	Unidad de subdivisión	Número de partes
9/8				
3/4				
6/8				
3/8				